

**ESPAD Nivel I**

**Ámbito Científico Tecnológico**

**Contenidos**

**Las matemáticas en un mundo tecnológico:  
Números enteros**

¿De qué podríamos hablar sin números?

Desde luego, no del tiempo cronológico con su sucesión de horas, meses, años; ni tampoco del tiempo atmosférico con sus temperaturas máximas y mínimas, ni de la velocidad del viento, ni del poder destructivo de los huracanes... Sin números tampoco podríamos hablar de economía y finanzas, de déficit y superávit de las cuentas públicas, de los porcentajes de paro y ocupación, del precio de la barra de pan. No existiría la estadística ni las encuestas, ni las noches electorales con su reparto de escaños, ni podríamos hablar de la distancia entre las ciudades ni de los límites de velocidad. Sin números no hablaríamos de las distancias entre las estrellas, ni de la profundidad del universo, ni del número de galaxias. Casi nada de lo que el hombre ha construido existiría, ni los edificios, ni las ciudades, ni los frigoríficos y televisores, ni Internet, ni la radio, ni la música digitalizada...



Imagen de elaboración propia con recortes de titulares de [elpais.com](http://elpais.com) del 02/03/12

Por todo ello, empezamos este Nivel I de la Educación Secundaria de Adultos, con algo de matemáticas y aritmética.


# 1. Números naturales



Y la primera etapa de este viaje alucinante son precisamente los **números naturales**. Estos responden a la pregunta: ¿cuántos? ¿Cuántos planetas tiene nuestro sistema solar? ¿Cuántos dedos tienen nuestras manos?

Así como para escribir las palabras necesitamos un sistema de escritura con unos símbolos y una reglas, para contar también es preciso un **sistema de numeración**.

El hombre primitivo usó marcas para contar los días o los animales que había cazado, o bolsas con guijarros para contar las ovejas del ganado. En las sociedades más avanzadas, como la del antiguo Egipto, se usaron lo que con más propiedad se denominan sistemas de numeración. Estos constan de una serie de signos o cifras que se utilizan para formar los números siguiendo unas reglas.



Fotografía de mafis75 en [Flickr](#). Licencia [CC](#)

Hoy día universalmente se utiliza el denominado **sistema de numeración decimal**. Al conocimiento del mismo se dedican años en la educación primaria de todos los países, por ser entre otras cosas la llave del conocimiento científico.

Dicho sistema emplea diez signos o cifras: 0, 1, 2, 3, 4, 5, 6, 7, 8, 9. Lo más peculiar de este sistema de numeración es que los símbolos significan cosas distintas según la posición que ocupen dentro del número.

## 1.1. Ordenación y representación



### Ordenar los números naturales.

Los números naturales se aprenden de forma secuencial: 0, 1, 2, 3, 4, 5... Esto tiene que ver con la relación de orden. Hay un primer número 0, un segundo 1...

Esto nos permite que puedan representarse en una recta, utilizando el siguiente método:

Se escoge un origen y una unidad, y esta se lleva sucesivamente a partir del origen siempre en el mismo sentido, obteniéndose una representación de los números naturales.

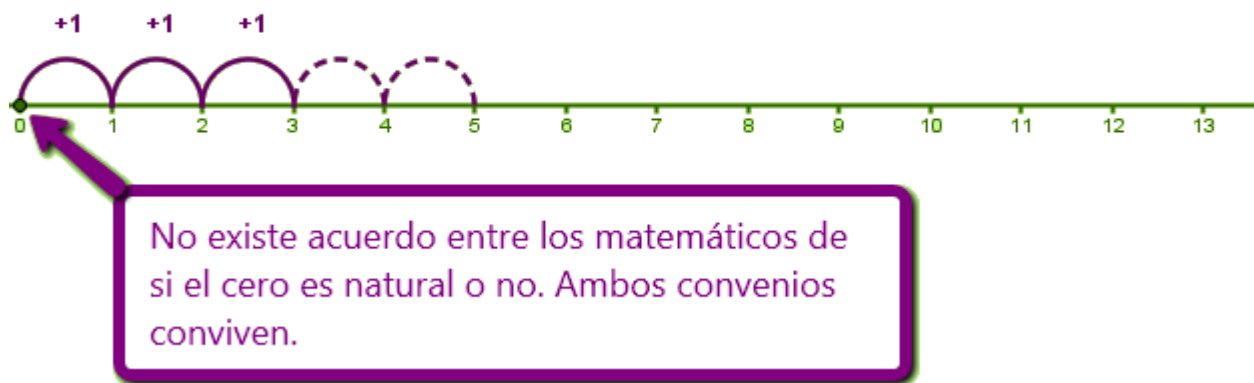


Imagen de elaboración propia

### Importante

Para ordenar los números naturales, los comparamos cifra a cifra. Se utilizan los símbolos:

> mayor que	$75.460 > 75.439$
< menor que	$8.934 < 8.991$
= igual a	$31.075 = 31.075$

### Ejercicio resuelto

Por una estación de tren han pasado en una semana el siguiente número de viajeros:

24.789, 33.990, 14.378, 39.001, 21.987, 19.853, 28.234

Órdenalos de forma ascendente.

14.378<19.853<21.987<24.789<28.234<33.990<39.001

## 1.2. Operaciones con números naturales



### Operaciones con números naturales: suma, resta, producto y división.

Este apartado es claramente un ejercicio de memoria. Desde el colegio o la escuela, los profesores y profesoras nos han ayudado a desarrollar unas destrezas de cálculo, que nosotros ya tenemos más que asimiladas y recurrimos a ellas de forma natural.

Por ejemplo, si queremos saber quién ha sido el pichichi de la liga (el mayor goleador), solo tendremos que averiguar el total de goles marcado por cada jugador, y para ello recurriremos a la suma. Si queremos saber la diferencia que ha habido entre el pichichi y el segundo, restaremos al número de goles del primero, el número de goles del segundo.

Si uno de estos jugadores ha marcado 2 goles por partido, durante 7 partidos consecutivos, al multiplicar obtenemos los goles marcados en esas jornadas. Y si además, un club quiere primar a sus jugadores repartiendo una cantidad por partido ganado, solo tendremos que dividir el dinero entre el número de jugadores de la plantilla para saber a cuánto cae cada uno.



Fotografía en Flickr por [ruurmo](#) bajo CC

### Importante

- Los términos de la adición se llaman **sumandos**. El resultado es la suma o total.
- Los términos de la sustracción se llaman **minuendo** y **sustraendo**. El resultado es la resta o diferencia.

Para comprobar si una resta es correcta, la suma del sustraendo y la diferencia debe dar el minuendo:

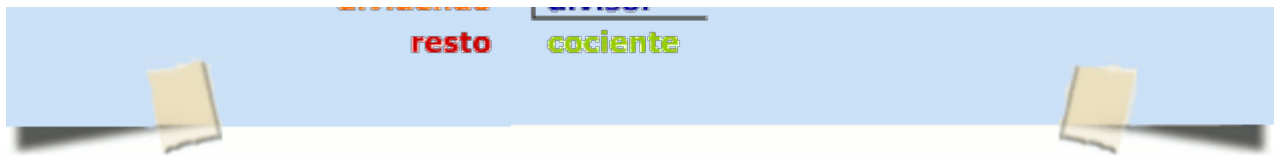
$$\text{sustraendo} + \text{diferencia} = \text{minuendo}$$

### Importante

La **multiplicación** equivale a una suma de varios sumandos que son iguales. Los términos de la multiplicación se denominan **factores**. El resultado final se llama **producto**.

### Importante

Dividir es repartir una cantidad en partes iguales.



- El dividendo es la cantidad que se reparte.
- El divisor es el número de partes que se hacen.
- El cociente es la cantidad que toca a cada parte.
- El resto es la cantidad que queda sin repartir.

En toda división se cumple que:

$$\text{dividendo} = \text{divisor} \cdot \text{cociente} + \text{resto}$$

La división puede ser:

**Exacta**, si el resto es cero (no sobra ninguna cantidad).

**Inexacta**, si su resto no es cero.

Cuando la división es exacta entonces decimos que el dividendo es **divisible** por el divisor.

A continuación de proponemos una serie de ejercicios agrupados en sumas y restas, y multiplicación y división, para practicar el cálculo mental.

#### Suma y resta

[http://proyectodescartes.org/EDAD/materiales\\_didacticos/EDAD\\_1eso\\_numeros\\_naturales-JS/1q1\\_ejercicios\\_resueltos\\_2a.htm](http://proyectodescartes.org/EDAD/materiales_didacticos/EDAD_1eso_numeros_naturales-JS/1q1_ejercicios_resueltos_2a.htm)

#### Multiplicación y división

[http://proyectodescartes.org/EDAD/materiales\\_didacticos/EDAD\\_1eso\\_numeros\\_naturales-JS/1q1\\_ejercicios\\_resueltos\\_2b.htm](http://proyectodescartes.org/EDAD/materiales_didacticos/EDAD_1eso_numeros_naturales-JS/1q1_ejercicios_resueltos_2b.htm)

Escena de Juan Simón Santamaría en [Proyecto Descartes](#). Licencia CC

Escena de Juan Simón Santamaría en [Proyecto Descartes](#). Licencia CC

## Ejercicio resuelto

Una empresa está organizando un evento para el que tiene que desplazar 2.700 personas. ¿Pueden ir en autobuses de 55 plazas sin que sobre ninguno? ¿Y en autobuses de 30 plazas? Razona tus respuestas.

### Mostrar retroalimentación

Como tenemos que repartir viajeros entre plazas, estamos ante una operación de división.

2.700 55

500 49

05

En este caso, tenemos dos opciones contratar 49 autobuses y que sobren 5 viajeros, o contratar 50 autobuses por lo que sobrarían plazas.

2.700 30

000 90

00



### 1.3. Propiedades y operaciones combinadas

#### Propiedades y operaciones combinadas.

Es frecuente que las operaciones se combinen. Por ejemplo, en  $2+3\cdot4$  se encadenan la suma y el producto. Para indicar qué operación debe hacerse en primer lugar se usan los paréntesis y también los corchetes. Así  $(2+3)\cdot4$  indica que primero debe realizarse la suma y a continuación el producto. El resultado sería, pues,  $(2+3)\cdot4=5\cdot4=20$ . Para reducir el uso de los paréntesis se han establecido un orden de prevalencia entre las operaciones.




Imagen de Didgemanen Pixabay .Licencia CC

En la siguiente presentación, puedes las propiedades básicas de estas operaciones y de sus combinadas.

[https://docs.google.com/presentation/embed?id=dpgc6tj\\_85d74634gw](https://docs.google.com/presentation/embed?id=dpgc6tj_85d74634gw)

Presentación de elaboración propia

Aunque en la presentación no aparecen las operaciones resta y división para simplificar, las propiedades de la suma son también válidas para la diferencia, y las del producto para la división.

#### *Importante*

Las distintas operaciones o pasos que se realizan se encadenan secuencialmente mediante el signo  $=$ . Cada nuevo paso supone una simplificación de los anteriores reduciendo en al menos un nivel su complejidad hasta concluir en el resultado final. Seguir estas reglas evita errores y permite una corrección más fácil.

En la siguiente escena del Proyecto Edad puedes practicar todos los conceptos vistos en la presentación anterior:

[http://proyectodescartes.org/EDAD/materiales\\_didacticos/EDAD\\_1eso\\_numeros\\_naturales-JS/1q1\\_ejercicios\\_resueltos\\_2c.htm](http://proyectodescartes.org/EDAD/materiales_didacticos/EDAD_1eso_numeros_naturales-JS/1q1_ejercicios_resueltos_2c.htm)

Escena de Juan Simón Santamaría en Proyecto Descartes. Licencia CC

#### *Ejercicio resuelto*



b.  $[(2+3) \cdot 4 + 6] \cdot 3 + 10$

**Mostrar retroalimentación**

a.  $3 \cdot (8+3) + 2 \cdot 7 = 3 \cdot 11 + 2 \cdot 7 = 33 + 14 = 47$

b.  $[(2+3) \cdot 4 + 6] \cdot 3 + 10 = [5 \cdot 4 + 6] \cdot 3 + 10 = [20 + 6] \cdot 3 + 10 = 26 \cdot 3 + 10 = 78 + 10 = 88$

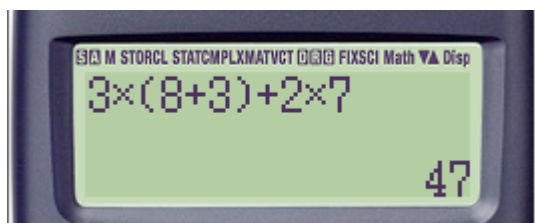
## Ejercicio resuelto

Comprueba los resultados anteriores en la calculadora. Prueba a hacerlo escribiendo toda la operación y realizando cada paso por separado (primero los paréntesis, luego las multiplicaciones...)

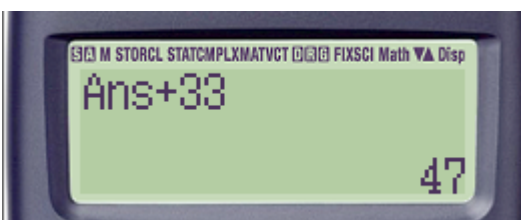
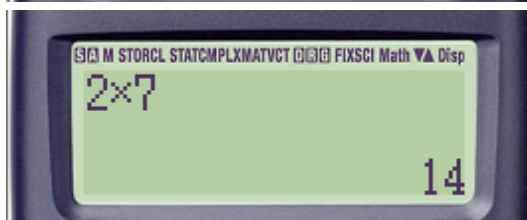

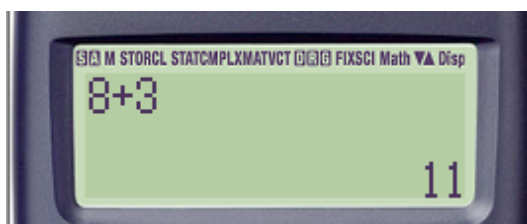
**Mostrar retroalimentación**

a)

Operación completa



Paso a paso



b)

Operación completa



Paso a paso



## Ejercicio resuelto

En una piscifactoría se introducen cada semana 325 lubinas y 467 doradas. Suponiendo que en 3 semanas aún no han criado, ¿cuántas peces tendremos en total pasado ese tiempo? Expresa la operación combinada con sus cifras y signos correspondientes, y resuélvela paso a paso.


### Mostrar retroalimentación

$$3 \cdot (325 + 467) = 3 \cdot (892) = 2676 \text{ peces}$$

En una semana tenemos  $325 + 467 = 892$  peces. Como han pasado 3 semanas tendríamos un total de  $3 \cdot 892 = 2676$ .

## 2. Números enteros

Nuestra cultura ha incorporado los números negativos y los usa en múltiples situaciones. Así se habla de una temperatura de  $-3^{\circ}$  centígrados o de 3 grados bajo cero; los bancos advierten que la cuenta corriente se encuentra en números rojos (negativos) o negros (positivos), forma suave de decir que se le debe dinero; en los libros de Historia se anuncia que tal acontecimiento ocurrió en el año  $-300$  o 300 a. C. o en el año 1750...



Fotografía de hugovk en [Flickr](#). Licencia [CC](#)

## 2.1. Operaciones, ordenación y representación



### Enteros: una ampliación de los naturales. Comparación y ordenación.

Los números enteros pueden considerarse la segunda etapa de ese viaje alucinante que ha comenzado con los números naturales. Entran en escena cuando hay un antes y un después, un arriba y abajo, derecha e izquierda, haber y deber...



Fotografía de Andrea en [Flickr](#). Licencia CC

Al graduar la recta con los números naturales adoptábamos un origen y una unidad. Los números naturales hacían su aparición al llevar la unidad en el mismo sentido a partir del origen. Pero ¿qué ocurre si el sentido se invierte? Hacen su aparición los números enteros negativos, simétricos u opuestos de sus hermanos, los números naturales, ahora también llamados números enteros positivos.



Imagen de elaboración propia

### El valor absoluto

El valor absoluto de un número entero es la distancia que le separa del cero. Se escribe entre dos barras  $| |$  y es el número sin su signo:

$$|+a| = a \quad |-a| = a$$

El valor absoluto de  $-3$ , se escribe  $|-3|$  y es 3. El valor absoluto de  $+5$ , se escribe  $|+5|$  y es 5.

### Importante

Aunque es lógico que entre varios números enteros siempre es mayor el que está situado más a la derecha de la recta, el valor absoluto nos permite comparar dos o más números enteros, teniendo en cuenta que:

- Entre dos o más números enteros positivos es mayor el de mayor valor absoluto.
- Entre dos o más números enteros negativos es mayor el de menor valor absoluto.

Coloca los números de la parte inferior de forma que queden ordenados de menor a mayor

OTRO EJERCICIO COMPROBAR

○ < ○ < ○ < ○

+91   -98   +31   -94

Escena de Rita Jiménez Igea en [Proyecto Descartes](#). Licencia CC

### Operaciones con números enteros

Con los números naturales ya repasamos operaciones básicas como la suma, la diferencia, el producto y la división. Aunque las propiedades son las mismas, al aumentar el conjunto numérico estas operaciones se complican a nivel de cálculo. Es por ello, que se establecen unas pautas para simplificar la escritura de estas operaciones.


#### *Importante*

- Cuando veamos un número sin signo este es positivo, ya que el primer sumando puede escribirse sin signo para poder agilizar las operaciones.
- Nunca pueden aparecer dos signos (operaciones) seguidos. Tienen que estar separados por paréntesis, corchetes...

En la siguiente presentación puedes ver con detalle cómo resolver operaciones sencillas (no combinadas) de números enteros:

[https://docs.google.com/presentation/d/1VyZqWTpiQEQtM0ZHrHh5oCr4pIU5YRz\\_5LYuN\\_rZbWI/embed?start=false&](https://docs.google.com/presentation/d/1VyZqWTpiQEQtM0ZHrHh5oCr4pIU5YRz_5LYuN_rZbWI/embed?start=false&)

loop=false&delayms=3000



Aunque es importante memorizar los distintos casos y saber cómo operar en cada uno de ellos, cuando surgen dudas siempre es útil contextualizar las actividades. En el caso de las operaciones con números enteros, podíamos pensar que restar es gastar o deber dinero, y sumar ingresar o ganar.

- **+6 +3 = +9**  
significa que tienes 6 y te dan 3  
=> **tienes 9**
- **-7 -5 = -12**  
significa que debes 7 y gastas 5  
=> acumulas una **deuda de 12**
- **-6 +8 = +2**  
significa que tienes 8 pero debes 6  
=> **tienes 2** El dinero supera las deudas
- **-5 +3 = -2**  
significa que debes 5 y tienes 3  
=> **debes 2** Las deudas superan el dinero.

A continuación, tienes unos ejercicios interactivos para practicar:

### Suma y diferencia

[http://proyectodescartes.org/EDAD/materiales\\_didacticos/EDAD\\_1eso\\_numeros\\_enteros-JS/1q3\\_ejercicios\\_resueltos\\_2a.htm](http://proyectodescartes.org/EDAD/materiales_didacticos/EDAD_1eso_numeros_enteros-JS/1q3_ejercicios_resueltos_2a.htm)

Calcula las siguientes sumas de números enteros

$$- 4 + 3 = \boxed{\phantom{00}}$$

$$+ 5 - 1 = \boxed{\phantom{00}}$$

$$- 4 + 9 = \boxed{\phantom{00}}$$

Escribe cada resultado y pulsa INTRO

OTRO EJERCICIO

COMPROBAR

Escena de Rita Jiménez Igea en [Proyecto Descartes](#). Licencia CC

**Multiplicación**

**División**

[http://proyectodcartes.org/EDAD/materiales\\_didacticos/EDAD\\_1eso\\_numeros\\_enteros-JS/1q3\\_ejercicios\\_resueltos\\_3a.htm](http://proyectodcartes.org/EDAD/materiales_didacticos/EDAD_1eso_numeros_enteros-JS/1q3_ejercicios_resueltos_3a.htm)

[http://proyectodcartes.org/EDAD/materiales\\_didacticos/EDAD\\_1eso\\_numeros\\_enteros-JS/1q3\\_ejercicios\\_resueltos\\_3b.htm](http://proyectodcartes.org/EDAD/materiales_didacticos/EDAD_1eso_numeros_enteros-JS/1q3_ejercicios_resueltos_3b.htm)

Escena de Rita Jiménez Igea en [Proyecto Descartes](#). Licencia CC

Escena de Rita Jiménez Igea en [Proyecto Descartes](#). Licencia CC

## *Ejercicio resuelto*

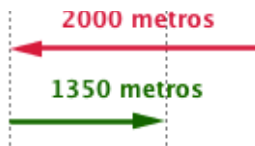
Una persona aficionada al senderismo recorre 4350 metros hasta que se da cuenta que en la parada que hizo a 2000 metros de la salida se olvidó la comida, por lo que vuelve sobre sus pasos. Si una vez recogida la comida recorre 1350 metros antes de la siguiente parada...

Contesta a las siguientes preguntas:

- a) ¿A qué distancia está de la salida?
- b) ¿Cuántos metros ha recorrido en total?

**Mostrar retroalimentación**

a) Cuando queremos averiguar la distancia a la que está siempre que avance debemos sumar los metros, y si retrocede restarlos. Luego en este caso:



Está a  $4350 - 2000 + 1350 = 3700$  metros de la salida

b) En este caso no importa el sentido en el que camine, sino los metros recorridos:



Ha recorrido  $4350 + 2000 + 1350 = 7700$  metros



## 2.2. Potencias y raíces

Las potencias. ¿Una nueva operación?

Al igual que la multiplicación es la suma de varias veces de un mismo número, la potenciación es el producto resultante de multiplicar una o varias veces ese número.

Un ejemplo muy sencillo para entender las potencias es el siguiente: en un pueblo hay 4 vecinos, cada vecino tiene 4 caballos y cada caballo usa 4 herraduras.

Si desean comprar herraduras para todos, ¿cuántas herraduras suman en total? No es necesario contar las herraduras una a una. Se podría recurrir a las potencias:

$$4 \cdot 4 \cdot 4 = 4^3 = 64$$

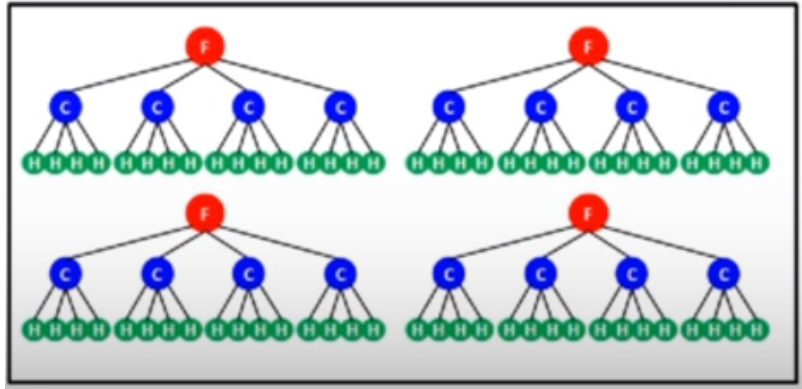


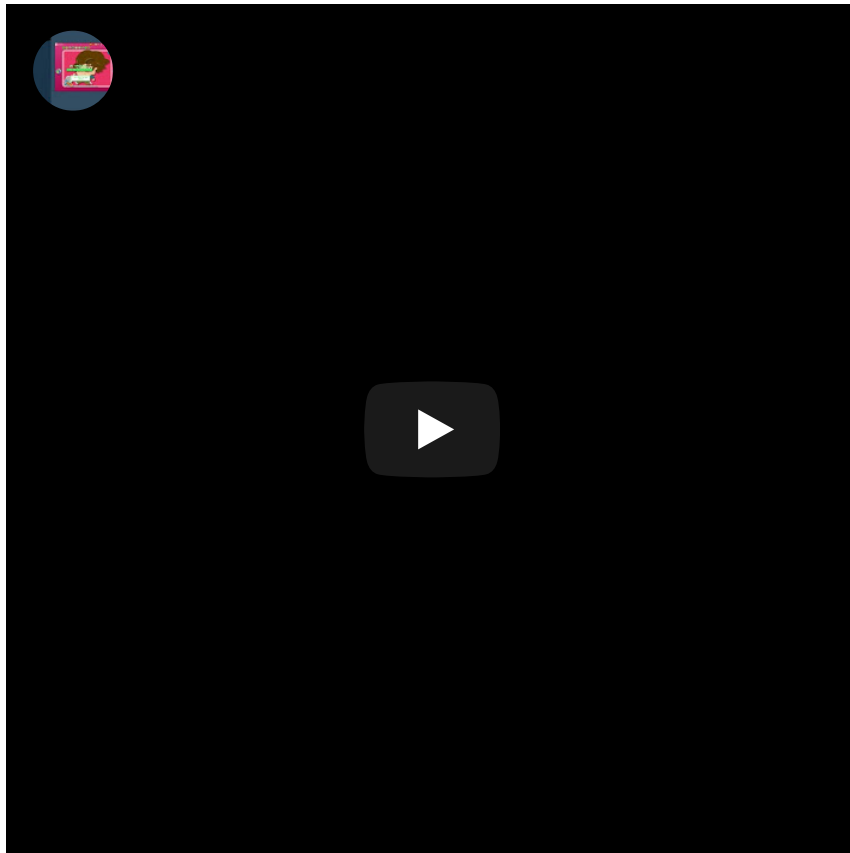
Imagen tomada de Video 03 -Aplicaciones con Potencias de Mat videoconferencia. Alojado en Youtube

### Importante

Las potencias se representan  $a^b$  donde  $a$  es el número que se multiplica (**base**) y  $b$  el número de veces que se hace el producto (**exponente**).

A continuación te dejamos un vídeo y un applet para que practiques estos conceptos:

<https://www.youtube.com/embed/yf6l5CmbSJk>



Vídeo de childtopia alojado en [Youtube](#)

[http://proyectodescartes.org/EDAD/materiales\\_didacticos/EDAD\\_1eso\\_numeros\\_enteros-JS/1q3\\_ejercicios\\_resueltos\\_4a.htm](http://proyectodescartes.org/EDAD/materiales_didacticos/EDAD_1eso_numeros_enteros-JS/1q3_ejercicios_resueltos_4a.htm)

**Calcula las siguientes potencias de números enteros**

$(+ 8 )^3 =$

$(+ 3 )^2 =$

$(+ 1 )^5 =$

**Escribe cada resultado y pulsa INTRO**

**OTRO EJERCICIO**

Escena de Rita Jiménez Igea en [Proyecto Descartes](#). Licencia [CC](#)

Si observas detenidamente los ejemplos anteriores puedes sacar conclusiones dependiendo de si la potencia

afecta al signo del número entero o no.

## Importante

1. Si el signo está dentro del paréntesis, formará parte de la base y por consiguiente se repetirá tantas veces como nos indica el exponente.
2. Si el signo está fuera del paréntesis, no forma parte de la base y por consiguiente se añadirá al resultado de la potencia.
3. Si la base es positiva, el resultado será positivo.
4. Si la base es negativa y el exponente es par, el resultado será positivo.
5. Si la base es negativa y el exponente es impar, el resultado será negativo.

### Raíces cuadradas exactas

La operación inversa a la potenciación es la radicación. En ella, conocidos el resultado de la potencia y su exponente, hemos de calcular la base.

La raíz cuadrada de un número  $a$  es otro número  $b$  tal que, al elevarlo al cuadrado, nos da  $a$ .

$$\sqrt{a} = b \rightarrow b^2 = a$$

Al número  $a$  se le llama **radicando**.

Ejemplos:

$$\sqrt{36} = 6 \rightarrow 6^2 = 36$$

$$\sqrt{100} = 10 \rightarrow 10^2 = 100$$

Al calcular raíces cuadradas hay que tener en cuenta lo siguiente:



Imagen de Anerma en Pixabay. LicenciaCC

Si el **radicando** es **positivo** hay **dos raíces**:

$$\sqrt{49} = 7 \quad \text{porque} \quad 7^2 = 49$$

$$\sqrt{49} = -7 \quad \text{porque} \quad (-7)^2 = 49$$

Se escribe  $\sqrt{49} = \pm 7$

Si el **radicando** es **negativo** no hay raíz:

$$\sqrt{-49} = b \quad b^2 = -49 \quad \text{no es posible}$$

porque  $b^2$  es positivo y -49 es negativo.

## Importante

$5^2 = 25 \rightarrow \sqrt{25} = 5$  . En este caso se dice que la **raíz cuadrada es exacta**.

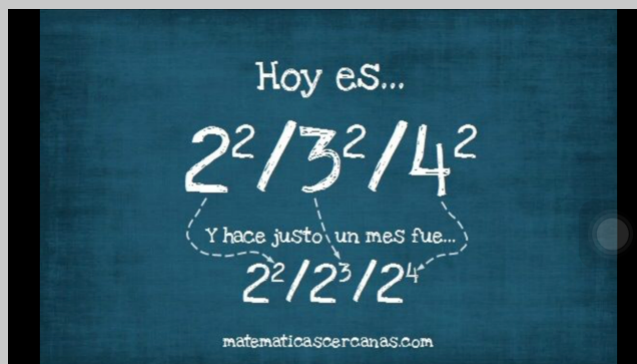
[http://proyectodescartes.org/EDAD/materiales\\_didacticos/EDAD\\_1eso\\_numeros\\_enteros-JS/1q3\\_ejercicios\\_resueltos\\_4b.htm](http://proyectodescartes.org/EDAD/materiales_didacticos/EDAD_1eso_numeros_enteros-JS/1q3_ejercicios_resueltos_4b.htm)

Escena de Rita Jiménez Igea en [Proyecto Descartes](#). Licencia [CC](#)

En los próximos temas, veremos cómo calcular raíces cuadradas no exactas de forma aproximada.

## *Para saber más*

Muchos son ya los usuarios de las redes sociales, y cada vez más son los que no solo las usan para estar en contacto con sus conocidos o amigos. Te proponemos que busques perfiles asociados a las curiosidades matemáticas, como Matesy+ o matematicascercanas, te ayudarán a ver el mundo desde otra perspectiva:



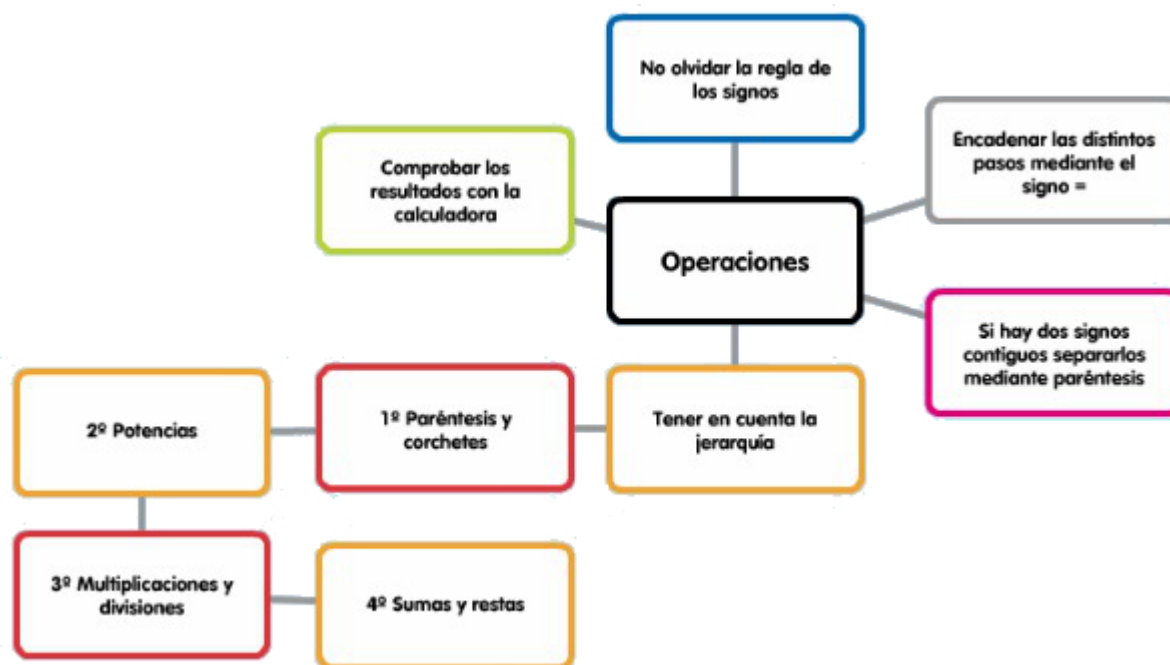
## 2.3. Operaciones combinadas con números enteros



En el apartado 1.3. estuvimos trabajando con operaciones combinadas y números naturales. Al aumentar el conjunto numérico a los números enteros, estas operaciones aumentan en complejidad, ya que hay que tener siempre cuidado con los signos. Además, aparecen nuevas operaciones como la potenciación... Pero no te preocupes la clave del éxito es sencilla:

**Ser ordenado y metódico, y practicar mucho**

En el siguiente esquema puedes ver los pasos a seguir para resolver correctamente una operación de este tipo:



### Sumas y restas con paréntesis

- Al suprimir un paréntesis precedido del signo +, se suprime el paréntesis dejando los sumandos del interior con su signo:

$$9+(-3+1)=9-3+1=6+1=7$$

- Al suprimir un paréntesis precedido del signo -, todos los signos de los sumando de su interior se transforman en su opuesto:

$$7-(6-4)=7-6+4=1+4=5$$

Si te fijas en los dos ejemplos anteriores, hemos trabajado de la misma forma: antes de realizar cualquier operación hemos quitado los paréntesis. Sin embargo, podemos operar también calculando primero los paréntesis. En la siguiente escena de Geogebra en la que aparecen muchos ejemplos desarrollados paso a paso operan de esta forma.

<https://www.geogebra.org/material/iframe/id/Vqry96CQ/width/680/height/460/border/888888/rc/false/ai/false/sdz/false/smb/false/stb/false/stbh/true/ld/false/sri/true/at/preferjava>

**Otro****Paso 0**

$$(7 - 7) \cdot (-7) + 8 \cdot (-8)$$

Recurso de Guillermo Tinoco Ojeda alojado en [GeogebraTube](#). Licencia [CC](#)

Es importante que una vez veas cómo se han realizado varios de estos ejemplos, cojas papel y lápiz y lo intentes por ti mismo. Recuerda que una de las claves del éxito es: mucha práctica.

### *Ejercicio resuelto*

Realiza las siguientes operaciones combinadas de números enteros:

a.  $-3 \cdot [(2-1-7)-8]$

b.  $2 \cdot (-8-4+12) - 3 \cdot [7 - (-2+1)]$

Aprovecha y comprueba los resultados con la calculadora.

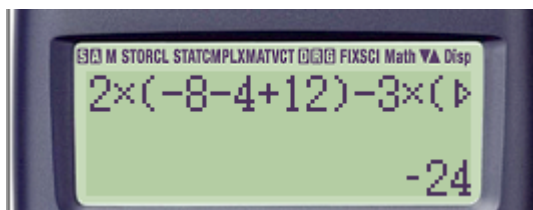
Recuerda la jerarquía de las operaciones.

**Mostrar retroalimentación**

a.  $-3 \cdot [(2-1-7)-8] = -3 \cdot [(-6)-8] = -3 \cdot [-14] = +42$



b.  $2 \cdot (-8 - 4 + 12) - 3 \cdot [7 - (-2 + 1)] = 2 \cdot (0) - 3 \cdot [7 - (-1)] = 2 \cdot 0 - 3 \cdot [7 + 1] = 2 \cdot 0 - 3 \cdot 8 = -24$



Observa que en operaciones más largas que la pantalla,  
para visualizar la operación entera puedes desplazarte  
con la teclas replay para ver el comando completo.

## Reflexiona

A continuación te enseñamos dos desarrollos de una operación combinada:

$$26 + 3 \times (3 - 5)^3 + 12 - 9 : 3$$

Uno de ellos es correcto, y el otro presenta varios errores. Determina cuál es cuál, y explica dónde están dichos errores.

Resultado 1	Resultado 2
$  \begin{array}{l}  26 + 3 \times (3 - 5)^3 + 12 - 9 : 3 = \\  \downarrow \quad \downarrow \quad \downarrow \\  29 \times (-2)^3 + 3 : 3 = \\  \downarrow \quad \downarrow \\  29 \times (-8) + 1 = \\  \downarrow \\  -232 + 1 = -231  \end{array}  $	$  \begin{array}{l}  26 + 3 \times (3 - 5)^3 + 12 - 9 : 3 = \\  \downarrow \quad \downarrow \quad \downarrow \\  26 + 3 \times (-2)^3 + 12 - 3 = \\  \downarrow \quad \downarrow \\  26 + 3 \times (-8) + 12 - 3 = \\  \downarrow \quad \downarrow \\  26 + (-24) + 12 - 3 = \\  \downarrow \quad \downarrow \quad \downarrow \\  38 - 27 = 11  \end{array}  $

Mostrar retroalimentación

Error 1: Se ha realizado la suma de  $26+3$ , antes que el producto de  $3 \times (3-5)^3$ .

Error 2: Se ha realizado la resta de  $12-9$ , antes que la división de  $9$  y  $3$ .

Estas dos decisiones tomadas al principio han provocado que el resultado no sea correcto.

En el siguiente [enlace a la página de vitutor](#) encontrarás un ejercicio interactivo. Haz el desarrollo en papel y adjunta los resultados. A continuación, pulsa en "Corregir" para saber tu puntuación y ver las soluciones desarrolladas.



#### Divisibilidad. Múltiplos y divisores.

Frente a lo que pudiera parecer la operación producto de números enteros ha tenido mayor importancia que la suma. El producto ha permitido un mayor conocimiento de los números enteros e interesantes aplicaciones prácticas. Por ejemplo, la clasificación de los números primos, que son esenciales en las labores de codificación en informática y en la creación de claves.



Fotografía de osolev en Flickr. Licencia CC

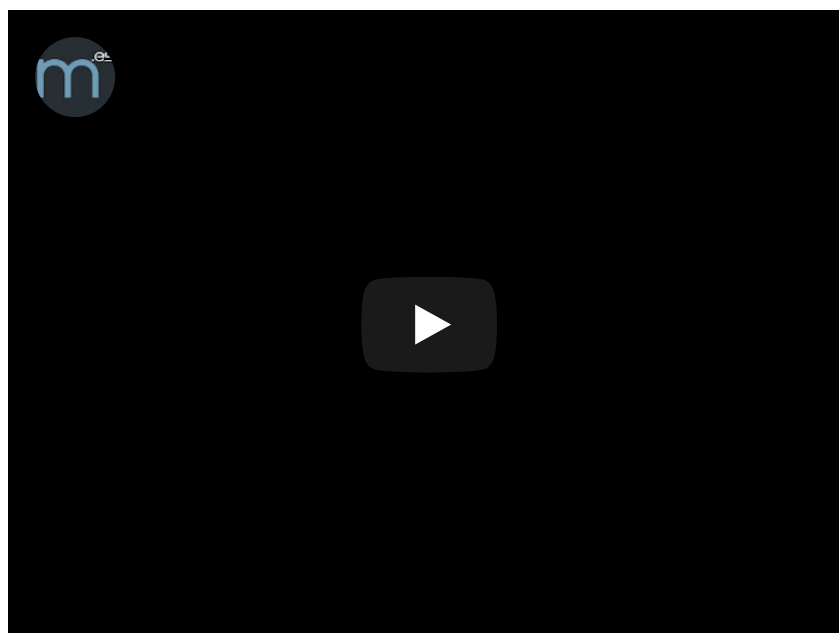
#### *Importante*

Si  $a \cdot b = c$  con  $a$  y  $b$  números enteros distintos de 0, entonces  $a$  y  $b$  se llaman **divisores** o **factores** de  $c$ . También  $c$  se dice **múltiplo** de  $a$  y  $b$ .

Dado que  $2 \cdot 5 = 10$ , 2 y 5 son divisores o factores de 10. A su vez 10 es un múltiplo de 2 y de 5. Decir que 2 es un divisor de 10 es equivalente a decir que 10 es un múltiplo de 2.

Por tanto, los múltiplos de un número natural son los números naturales que resultan de multiplicar ese número por otros números naturales:

<https://www.youtube.com/embed/AFOQIRihSbw>



Vídeo de lasmatematicas.es alojado en Youtube

Ser divisor es lo recíproco a ser múltiplo. Si 9 es múltiplo de 3, entonces 3 es divisor de 9. Los divisores de un número natural lo pueden dividir de forma exacta.

Para hacer más operativa la búsqueda de los divisores de un número, tenemos los criterios de divisibilidad.

Los criterios de divisibilidad son reglas que nos permiten averiguar con rapidez si un número es divisible por otro; es decir, si el más grande es múltiplo del más pequeño o si el más pequeño es divisor del más grande.

ES DIVISIBLE POR	CRITERIO DE DIVISIBILIDAD	EJEMPLO
2	Si termina en cero o cifra par.	24, 238, ... Como terminan en 4 y 8 que son números pares, ambos son divisibles por 2.
3	Si la suma de sus dígitos es múltiplo de 3.	564 -> $5 + 6 + 4 = 15$ -> 15 es múltiplo de 3, luego 564 es divisible por 3.
5	Si termina en cero o cinco.	45, 510, ... Como terminan en 0 y 5 ambos son números divisibles por 5.
10	Si termina en cero.	230, 110, ... Como terminan en 0, ambos son divisibles por 10.

Estos criterios de divisibilidad no solo nos permiten reconocer, sin realizar la división, si un número es divisible por otro, sino también descomponer el número como un producto de otros números.

En la siguiente presentación descubrirás cómo se hace esta descomposición y cómo, a través de ella, podemos calcular el **máximo común divisor** y el **mínimo común múltiplo**, conceptos que te serán muy útiles de aquí en adelante.

<https://docs.google.com/presentation/d/1Mtw9Sm7cuhiDhDSZyZTw9mSfoMZo6Pvjgc3zq7NayY/embed?start=false&loop=false&delayms=3000>

A continuación, algunos ejercicios para practicar la descomposición en factores primos:

[http://proyectodescartes.org/EDAD/materiales\\_didacticos/EDAD\\_1eso\\_multiplos\\_y\\_divisores-JS/1q2\\_ejercicios\\_resueltos\\_2c.htm](http://proyectodescartes.org/EDAD/materiales_didacticos/EDAD_1eso_multiplos_y_divisores-JS/1q2_ejercicios_resueltos_2c.htm)

Descomposición factorial  
del número

4875

Tiene 5 factores primos

Otro número

4875

Factor: 0

## Ejercicio resuelto

En nuestro instituto funcionan cinco talleres: fotografía, ajedrez, canto, teatro y literatura. Las reuniones del taller de fotografía se hacen cada dos días, el de ajedrez cada tres, el de canto cada cuatro días, el de teatro cada cinco días y el de literatura cada seis días.

Si el día 1 de Octubre se reunieron los cinco talleres, ¿cuándo será la próxima vez en que volverán a coincidir las reuniones de todos los talleres?

### Mostrar retroalimentación

Observa que el número buscado debe ser múltiplo de los 5 números dados, ya que un taller se reúne cada vez que suma una cantidad fija de días, es decir, va construyendo un serie de múltiplos (p.e. ajedrez se reúne a los 3 días, a los 6 días, a los 9 días, ..., el de teatro a 5 días, a los 10, a los 15,...).

Por tanto, queremos un múltiplo común, y deseamos saber la primera vez que ocurrirá; luego, buscamos el MÍNIMO COMÚN MÚLTIPLO.

Como hemos visto antes, descomponemos todos los números en factores primos y tomamos los factores comunes y no comunes con mayor exponente. De ese modo es múltiplo de todos y es el más pequeño posible.

Pues bien haciendo eso, obtenemos que 2,3 y 5 son números primos,  $4 = 2^2$  y  $6 = 2 \cdot 3$ ; Por tanto el mínimo común múltiplo es  $2^2 \cdot 3 \cdot 5$ , o lo que es lo mismo 60.

Luego cada 60 días vuelven a coincidir. Si coincidieron el día 1 de octubre, la próxima vez será el 30 de noviembre.

Aunque lo más importante de este tema es que desarrolles destrezas y buenos hábitos de cálculo, no podemos dejar a un lado los conceptos estudiados, ya que nos acompañaran durante todo este viaje por el mundo científico-técnico.

### *Importante*

#### Lo esencial de los números naturales

Los **números naturales** son aquellos que nos sirven para contar. En la recta numérica se representan a la derecha del 0.

Las principales operaciones aritméticas con números naturales son la **suma**, la **resta**, la **multiplicación** y la **división**.

Para realizar operaciones combinadas con las diferentes operaciones aritméticas hay que seguir una **jerarquía** en las mismas:

- 1º) Se efectúan las operaciones que se encuentran dentro de los paréntesis, y después las potencias.
- 2º) A continuación, se resuelven las multiplicaciones y las divisiones en el orden en que aparecen de izquierda a derecha.
- 3º) Por último, se realizan las sumas y las restas en el mismo orden.

### *Importante*

#### Lo esencial de los Números Enteros

Los números enteros positivos, negativos y el 0 forman el conjunto de los **números enteros**.

Los enteros positivos se representan en la **recta numérica** a la derecha del número 0, y los negativos a la izquierda.

El **valor absoluto** de un número entero es el número que resulta al prescindir de su signo.

La **suma** de dos números enteros del mismo signo es igual a la suma de sus valores absolutos con el signo de los sumandos. Si los números son de distinto signo, se restan los valores absolutos y se coloca el signo del sumando de mayor valor absoluto.

El **opuesto** de un número entero se obtiene cambiándolo de signo. La **resta** de dos números enteros es igual a la suma del primero más el opuesto del segundo.

El **producto** de dos números enteros es igual al producto de sus valores absolutos, con signo + si ambos tienen el mismo signo, y con signo -, si son de signo contrario.

Para **dividir** dos números enteros se dividen sus valores absolutos. El signo del resultado es positivo si ambos tienen igual signo, y negativo, si son de signo contrario.

## Importante

### Lo esencial de potencia y raíz cuadrada

Un producto en el que todos los factores son iguales se llama **potencia**.

En una potencia, el factor que se repite se denomina **base** y el número de veces que se repite es el **exponente**.

Si la potencia tiene como base un entero positivo, su resultado es siempre positivo.

Si la potencia tiene como base un entero negativo, su resultado puede ser:

- Positivo, si el exponente es par.
- Negativo, si el exponente es impar.

La **raíz cuadrada** de un número  $a$  es otro número  $b$  tal que  $b^2=a$ .

Cuando el radicando es un número negativo, la raíz no tiene solución. Si el radicando es un número positivo, hay dos soluciones una positiva y otra negativa.

## Importante

### Lo esencial de Divisibilidad

Los **múltiplos** de un número se obtienen multiplicando dicho número por los números naturales.

Los **divisores** de un número lo dividen de forma exacta y se obtienen dividiendo ese número por todos los números menores o iguales a él.

Un número es **divisible** por 2 si su última cifra es cero o cifra par, por 3 si la suma de sus cifras es múltiplo de 3, por 5 si su última cifra es 0 o 5 y por 10 si su última cifra es 0.

Un número es **primo** si sólo tiene como divisores a él mismo y a la unidad.

Un número es **compuesto** si tiene más de dos divisores.

El **mínimo común múltiplo (MCM)** de dos o más números es el menor de sus múltiplos comunes. Se obtiene descomponiéndolos en producto de factores primos, y multiplicando los factores comunes y no comunes elevados al mayor exponente.

El **máximo común divisor (MCD)** de dos o más números es el mayor de sus divisores comunes. Se obtiene descomponiendo cada número en producto de factores, y multiplicando los factores comunes elevados al menor exponente.

### *Ejercicio resuelto*

Efectúa las siguientes operaciones sin usar la calculadora:

- a)  $23.612+915+1.036$
- b)  $114.532+54+2.309$
- c)  $3.877-3.058$
- d)  $324 \cdot 56$
- e)  $16.605 : 81$

**Mostrar retroalimentación**

- a) 25.563
- b) 116.895
- c) 819
- d) 18.144
- e) 205

### *Comprueba lo aprendido*

Escribe el signo que corresponda: <, > o =

- a)  $48.753$    $43.271+4.201+937+99$
- b)  $543$    $237+145+163$
- c)  $1.024$    $601+357+66$

**Enviar**

### *Comprueba lo aprendido*

DIVIDENDO	DIVISOR	COCIENTE
350	5	<input type="text"/>
54	<input type="text"/>	9
500	10	<input type="text"/>
<input type="text"/>	4	30

**Enviar**

Recuerda que en las divisiones exactas el dividendo es igual al divisor por el cociente.

## *Ejercicio resuelto*

Calcula las siguientes potencias:

- a.  $2^2$
- b.  $(2)^2$
- c.  $(-2)^2$
- d.  $-2^2$
- e.  $(-2)^3$
- f.  $-2^3$

**Mostrar retroalimentación**

- a.  $2^2 = 2 \cdot 2 = 4$
- b.  $(2)^2 = 2 \cdot 2 = 4$
- c.  $(-2)^2 = (-2) \cdot (-2) = +4$
- d.  $-2^2 = -(2 \cdot 2) = -4$
- e.  $(-2)^3 = (-2) \cdot (-2) \cdot (-2) = -8$
- f.  $-2^3 = -(2 \cdot 2 \cdot 2) = -8$

## Ejercicio resuelto

En mi casa tengo una pared de 435 cm de largo por 240 cm de alto. Deseo cubrirla entera con azulejos de forma cuadrada, todos del mismo tamaño, y usando el menor número posible de ellos (sin romper ninguno).

¿La medida del lado de los azulejos será múltiplo o divisor del largo y del alto de la pared?

### Mostrar retroalimentación

Si fuese múltiplo de las longitudes de los lados, sería el azulejo más grande que la pared. El lado del azulejo, para no romper ninguno, tiene que dividir exactamente a los lados de la pared.

La longitud buscada para el lado del azulejo, por tanto, será un divisor de ambos lados y el azulejo debe ser lo más grande posible (para utilizar el menor número de azulejos). Luego, buscamos el MÁXIMO COMÚN DIVISOR de las longitudes de los lados. Intenta calcularlo.

### Mostrar retroalimentación

Podemos intentar hacer un listado con todos los divisores de ambos números y buscar el mayor, pero sería tedioso y largo.

Si descomponemos los dos números en factores primos y tomamos los factores comunes con menor exponente, el número obtenido será divisor de ambos números (se ha formado con factores que están en los dos) y será el mayor, ya que si hubiese otro más grande tendría algún otro factor cosa que carece de sentido por la forma en que ha sido construido.

Si lo haces, el máximo común divisor ha de ser 15 y por tanto los azulejos tienen que tener 15 cm de lado.

$$435 = 3 \cdot 5 \cdot 29$$

$$240 = 2^4 \cdot 3 \cdot 5$$

Por tanto el máximo común divisor de 435 y 240 es  $3 \cdot 5$ ; o sea, 15.



---

[http://www.juntadeandalucia.es/educacion/adistancia/Aviso\\_Legal\\_Andalucia\\_v04.htm](http://www.juntadeandalucia.es/educacion/adistancia/Aviso_Legal_Andalucia_v04.htm)

